

Aluno: .....

Data: .....

N.º: .....

## CONTAGEM COM APOIO VISUAL

12  
34

Olha para o desenho do jardim com atenção. Conta cada elemento e escreve o número na caixa correspondente.



Borboletas



Flores




Joaninhas




Caracóis

2 Desenha nas caixas os desenhos que faltam para completar a quantidade pedida:




 Quero ter exatamente 5 balões:

    $3 + \underline{\quad} = 5$

 Quero ter exatamente 8 maçãs:


     $5 + \underline{\quad} = 8$

3 Conta as imagens. Liga a imagem ao número e ao nome por extenso corretos:

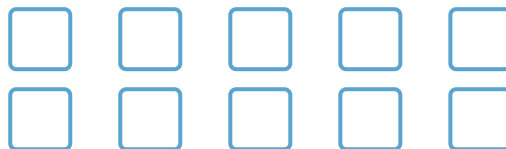
 ●	● 6 ●	● quatro
 ●	● 3 ●	● seis
	● 4 ●	● três

4 Pinta a quantidade de figuras que o número indica:

 Pinta 7 círculos:



 Pinta 9 quadrados:



5 Lê o problema, desenha os lápis e conta o total:

O Pedro tem 4 lápis azuis .

A Maria tem 3 lápis vermelhos .

Quantos lápis têm os dois amigos no total?

Desenha os 4 lápis do Pedro:

Desenha os 3 lápis da Maria:

Ao todo, eles têm:  lápis.

COMO CORREU ESTA TAREFA?

 Fácil   Mais ou menos   Dífícil